

[社 会]

○ 実施時間【10:40~11:20】(40分)

○ 次の注意をよく読んでおくこと。

- (1) 「始め」の合図があるまで問題用紙を開かないこと。
- (2) 問題は **1** ~ **3**、19 ページまであります。
- (3) 答えはすべて解答用紙の解答らんにはっきりと、ていねいに書きなさい。
- (4) 答えを直すときは、きれいに消してから書きなさい。
- (5) 内容に関する質問は受け付けません。
- (6) 気分が悪くなったり、トイレに行きたくなったりしたら、手をあげて監督の先生に合図しなさい。
- (7) 「終わり」の合図があったら、直ちに筆記用具を置き、解答用紙が回収されるまで待っていなさい。
- (8) 解答上の注意
字数指定のあるものは、句読点〔。、〕も一字と数えること。

受験 番号		氏 名	
----------	--	--------	--

1 次の [1] ～ [5] の港町に関する文章を読み、あとの問いに答えなさい。

[1] この港町は、戦前は海軍の鎮守府が置かれ、軍の艦船や兵器を整備する大規模な海軍工廠が併設されていました。現在でも、造船業がさかんなことで知られています。この港町がある① 広島県は、日清戦争や日露戦争の際には軍の輸送基地としての役割を果たしており、かつては兵器や軍服を作る工場はもちろん、駐屯する軍隊に日用品などを提供する商店も数多く存在し、軍とともに発展していきました。

[2] この港町は、六甲山地と② 瀬戸内海にはさまれており、その市内を通る道路の一つである鯉川筋は通称「移住坂」と呼ばれています。その由来は、この道の突き当りにかつて国立移民収容所があり、海外への移住希望者はこの鯉川筋を通ることになったことから「移住坂」と呼ばれるようになりました。この港町を出発した人の多くは③ ブラジルへと向かいました。また、この港町は④ 阪神工業地帯の一角を占めており、日本のものづくりを支えてきました。

[3] この港町は、北九州を東西に走る (⑤) 山地がかかる長崎県に位置しています。日本有数の中華街である長崎新地中華街があることからわかるように、この港町は江戸時代から中国との歴史的なつながりを持っています。明治時代からは、かつての出島に代わって、⑥ 石炭が長崎貿易を支えていきました。この石炭は、いわゆる「軍艦島」として知られる端島炭鉱などから産出されたものでした。

[4] この港町は、仙台湾に面していて、東北地方で最も長い (⑦) 川の旧河口はかつてこの港町に位置していました。江戸時代には、東北地方と江戸を結ぶ東廻り航路で最大の港町として栄えました。しかし、明治時代に東北地方で大規模な鉄道整備が始まると、この港町はその幹線から外れていたために、東北地方での物流拠点としての地位を失ってしまいました。

[5] この港町は、⑧ 北海道の南部に位置し、津軽海峡をはさんで青森県に面していて、天然の良港としての評価も高いために、本州との窓口として機能してきました。江戸時代にロシアが北太平洋に進出してくると、江戸幕府は蝦夷地を直轄領としました。この港町は、その根拠地となり、栄えていきました。

問1 [1] と [2] の文章中の港町のある都市名をそれぞれ解答らんに合わせて漢字で答えなさい。

問2 下線部①について、この県の伝統的工芸品として正しいものを下から1つ選び、記号で答えなさい。

- ア. 会津塗 イ. 加賀友禅 ウ. 熊野筆
エ. 信楽焼 オ. 常滑焼

問3 下線部②に関連して、瀬戸内海に面する岡山県の農業の特徴について述べた文として正しいものを下から1つ選び、記号で答えなさい。

- ア. 淡路島では、温暖な気候を活かしてたまねぎの栽培がさかんに行われている。
イ. ももやぶどうの栽培がさかん他に、児島湾を干拓した広い耕地での稲作が行われている。
ウ. 宇和海に面した地域では山の斜面を利用しただんだん畑が見られ、みかんの生産量は全国有数である。
エ. 夏の乾燥した気候を利用した小豆島でのオリーブの栽培で知られている。

問4 下線部③について、以下の表は日本がオーストラリア・サウジアラビア・ドイツ・ブラジルから輸入しているものの上位5品目を表したものです。ブラジルを表したものとして正しいものを下から1つ選び、記号で答えなさい。

ア		イ	
原油	91.7%	機械類	25.9%
石油製品	3.7%	医薬品	20.7%
有機化合物	1.5%	自動車	17.7%
アルミニウム	1.2%	有機化合物	5.3%
銅くず	0.5%	科学光学機器	4.9%
ウ		エ	
鉄鉱石	51.2%	石炭	32.7%
肉類	9.0%	液化天然ガス	26.8%
とうもろこし	6.8%	鉄鉱石	18.8%
有機化合物	5.3%	銅鉱	4.5%
コーヒー豆	4.6%	肉類	3.5%


(『日本国勢図会2023/24』より作成)

問5 下線部④について、以下の文は日本の四大工業地帯について述べたものです。阪神工業地帯について述べた文として正しいものを下から1つ選び、記号で答えなさい。

- ア. 日本で最初に発展し、戦前は生産額が第1位であった。中小工場が多いことでも知られている。
- イ. 自動車を中心とした機械工業の割合が高く、現在この工業地帯の生産額は第1位である。
- ウ. 埋立地うめたちに工場や火力発電所を作り発展してきた工業地帯で、戦後しばらくのあいだは生産額が第1位であった。
- エ. 官営の八幡製鉄所とともに鉄鋼業を中心に発展してきたが、近年は生産額がのびなやんでいる。

問6 空らん(⑤)に入る適当な語句を解答らんに合わせて漢字で答えなさい。

問7 下線部⑥について、石炭は火力発電の資源としても使われています。以下のグラフは、火力発電を含む日本の総発電量に占める発電方式の割合の変化を表したものです。このグラフの中のA~Cはそれぞれ何を表していますか、その組み合わせとして正しいものを下から1つ選び、記号で答えなさい。



■ A ≡ B ■ C ■ その他

(『日本国勢図会2023/24』より作成)

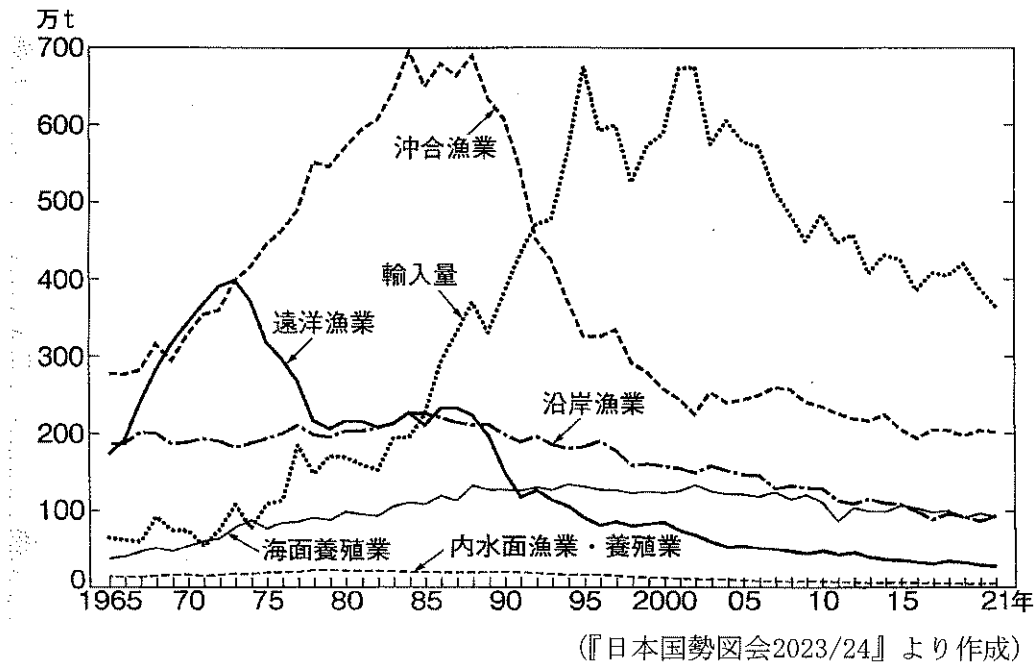
	ア	イ	ウ	エ	オ	カ
A	原子力	原子力	水力	水力	火力	火力
B	水力	火力	原子力	火力	原子力	水力
C	火力	水力	火力	原子力	水力	原子力

問8 空らん(⑦)に入る適当な語句を解答らんに合わせて漢字で答えなさい。

問9 下線部⑧に関連して、北海道の農牧業について述べた文として正しいものを下から1つ選び、記号で答えなさい。

- ア. 十勝平野では、畜産業がさかんで豚の飼育数は全国第1位である。
- イ. 上川盆地では、稲作には向かないため、ジャガイモやてんさいなどの栽培がさかんである。
- ウ. 根釧台地では、りんごなどの果樹栽培がさかんである。
- エ. 石狩平野では、^{でいたんち}泥炭地を改良して稲作がさかんに行われている。

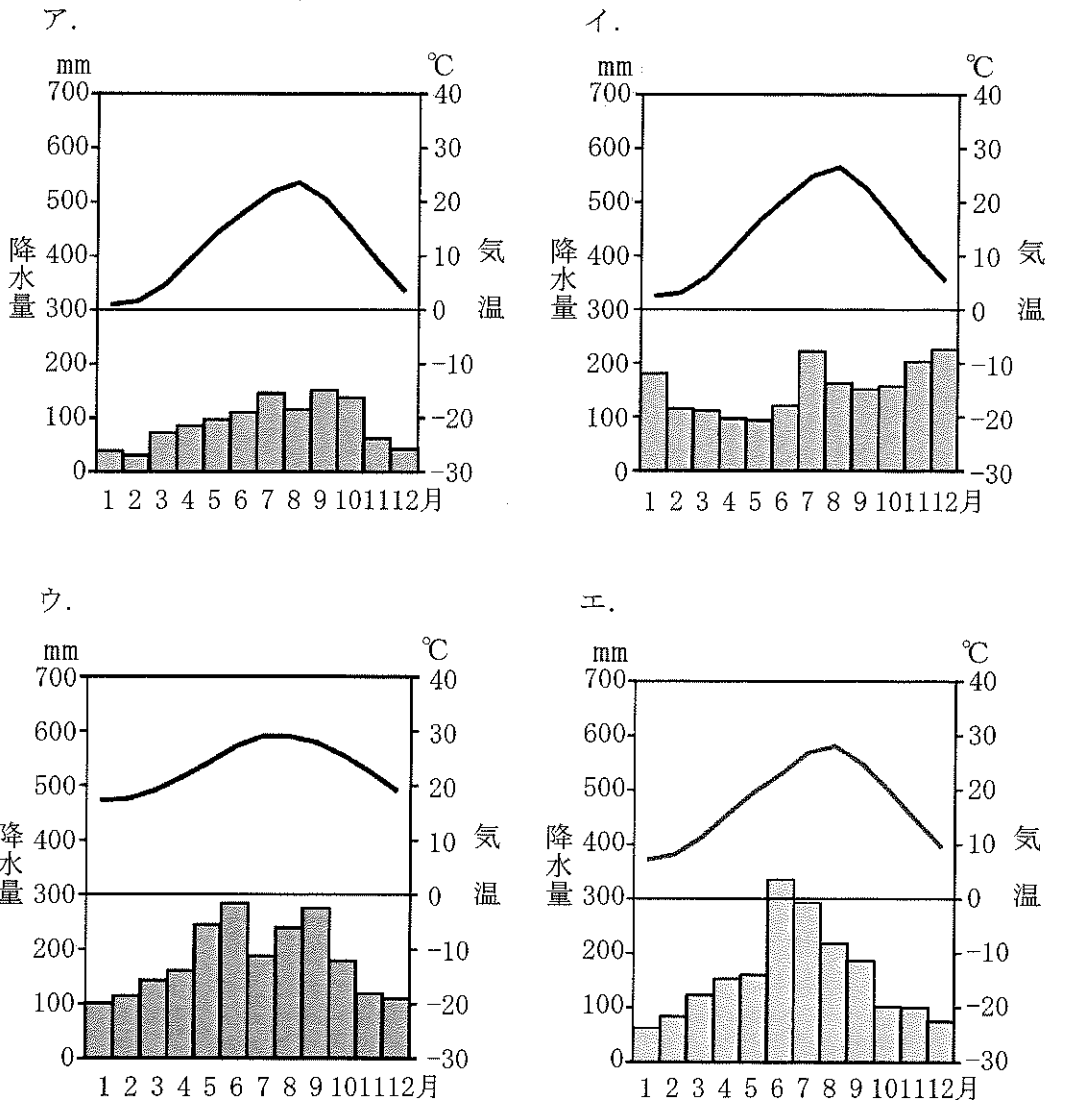
問10 以下のグラフは、漁業別の漁獲高の変化を表したものです。このグラフから読み取れることとして正しいものを下から1つ選び、記号で答えなさい。



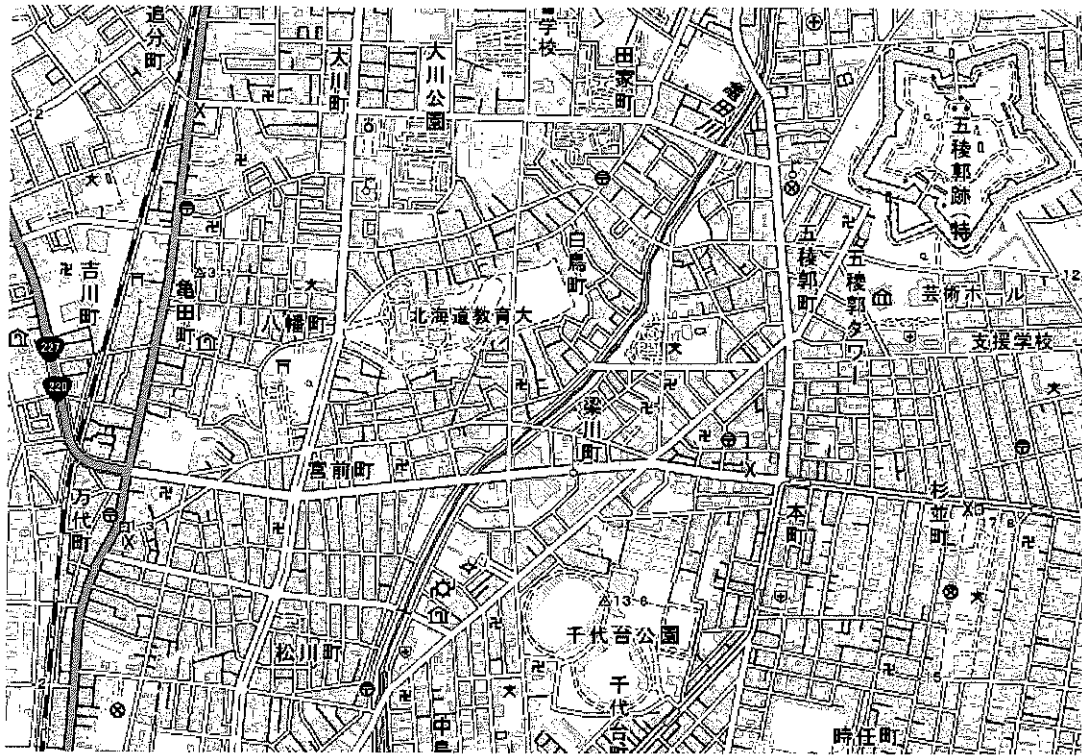
- ア. 1980年代に沖合漁業の漁獲高を外国からの輸入量が上回っている。
- イ. 海面養殖業は、2000年代以降も増加傾向にある。
- ウ. 遠洋漁業は、1970年代半ばに大きく漁獲高が減少している。
- エ. 2000年の時点で、輸入量は沖合漁業の漁獲高の5倍となっている。

問11 問10のグラフからは、漁獲高が減少を続けているなかで魚介類の輸入量も2000年代に入ってから減少していることが読み取れます。その理由を答えなさい。

問12 以下の雨温図は、[3]の港町・[4]の港町・新潟・那覇のものです。[4]の港町の雨温図として正しいものを下から1つ選び、記号で答えなさい。



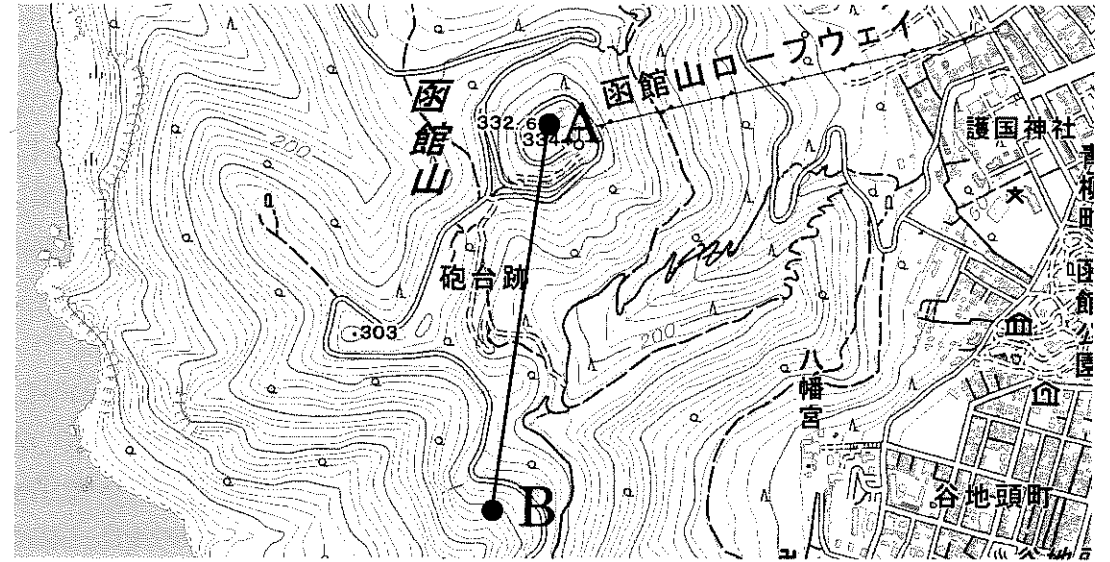
問13 [5] の文章に関連して、以下の地形図から読み取れることについて述べた文として正しいものを下から2つ選び、記号で答えなさい。



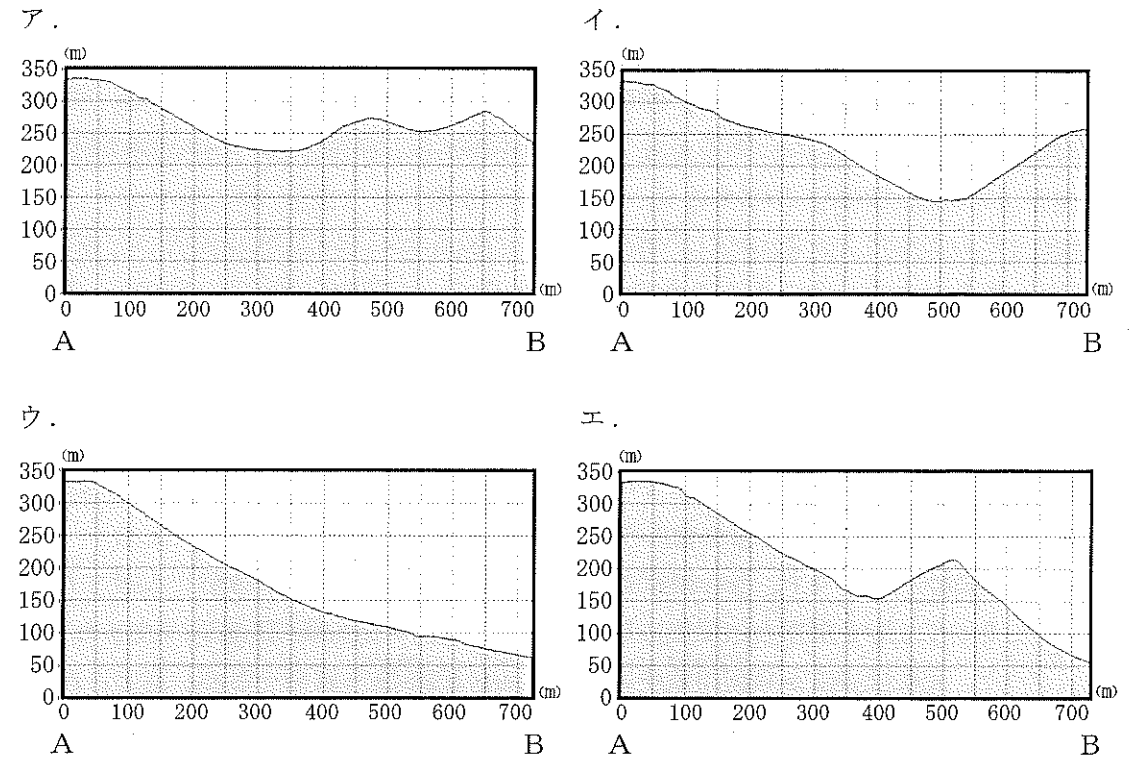
(「地理院地図」より作成)

- ア. 「亀田川」沿いには、工場が見られる。
- イ. 「大川公園」の西側には、病院が見られる。
- ウ. 線路沿いには、図書館が見られる。
- エ. 「五稜郭跡」の南側には、博物館（美術館）が見られる。
- オ. 地形図中には、警察署が2つ見られる。
- カ. 「千代台公園」は、地形図中で最も標高の高い場所にある。

問14 [5] の文章に関連して、以下の地形図中のAからBの断面図として正しいものを下から1つ選び、記号で答えなさい。



(「地理院地図」より作成)



2 墓の歴史に関する次の対話文を読み、あとの問いに答えなさい。

生徒：先日お墓参りをしてきました。

先生：それはご苦労様でした。それでは、今日はお墓の歴史について話しましょうか。

生徒：よろしくお願いします。

先生：お墓を大切に^{ナシ}して、お墓参りを勧めるという動きは、① 明治時代の終わりになってから広がっていったとされ、現在のお墓参りでよく見るような、「〇〇家の墓」と刻んだ四角い墓石の下に遺骨を納めるお墓の形も、② 大正時代以降に広まり始めたといわれているんだ。

生徒：ええ、そうなんですか。お墓参りって、思っていたよりも新しいんですね。

先生：そもそも、日本人と仏教の関係は、③ 江戸時代に入ってから大きく変わったといわれている。④ 仏教は古墳時代の終わりに朝鮮半島から伝わって、⑤ 飛鳥時代から奈良時代にかけて多くの寺が建てられた。また、⑥ 鎌倉時代・室町時代にも禅宗の寺があいついで建てられた。けれども、それらの寺は、本来は死者の葬式や供養^{注1}などとは無関係だった。葬式を行うような寺を持っていたのも、きわめて高い地位や相当な経済力の持ち主に限られていたんだ。ところが、戦国時代から江戸時代の初期にかけて、現在ある寺の約9割が創建されたと言われるように、村や町に多くの寺が建てられたみたいだね。

生徒：お寺って、古くからあるイメージですけども、意外にもほとんどが江戸時代に建てられたんですか。

先生：そのようだよ。そして江戸幕府は、(⑦) が広まることをおそれて宗教調査を行った。人々をどこかの寺に属させて、仏教の信者であって、(⑦) の信者ではないことを、寺に証明させたんだ。人々は属した寺の檀家^{注2}となり、寺を修理する時にはその費用を負担した。一方、寺は檀家の身分保証と引きかえに葬式や供養などを行うことになった。こうして、江戸時代になると、一部の身分や階層の人だけでなく、一般の人々も死後には葬式などをしてもらえる寺を持つようになったんだ。

生徒：面白いしくみです。寺と檀家とが持ちつ、持たれつの関係になったんですね。

先生：そして、寺と檀家との関係に加えて、江戸時代にはお墓にも変化が生まれたんだ。死者は古くから河川敷や山中、海浜などに葬られ、そこがお墓とされた。こうしたお墓を「埋め墓」というのだけど、「捨て墓」ともよばれたように、実際には死体を捨てる場所だった。⑧ 平安時代になって、貴族たちはこうし

たお墓の上に死者をまつる卒塔婆^{注3}を立てるようになったけれど、その後は鬼がいるなどといって家族も近寄らなかったという。

生徒：骨が転がっているお墓のイメージですか。それは怖いです。

先生：鬼とはいわなかったけれど、⑨ 縄文時代の人々も死者をおそれていたみたいだよ。縄文時代の人々は、死者の手足を折り曲げて葬ったけれど、それは死者の体に霊^{れい}がとりつき、動き出して悪さをすることをおそれたからと考えられているんだ。

生徒：まさにホラー映画の世界ですね。

先生：⑩ 弥生時代の墓や、古墳時代の古墳も、一種の埋め墓だったといえる。現在は葬られた人物はわかっていない。そのことは、葬る時は死者をまつたものの、その後は継続して死者をまつることが行われなかったからだとも考えられるだろう。

生徒：確かに。そういった見方もできるかもしれないですね。

先生：江戸時代になると、こうした埋め墓とともに「詣り墓」が造られるようになったんだ。これを両墓制とよんでいる。詣り墓は死者に対する供養などを行うためのお墓、お参りするためのお墓で、ふつうは寺の近くに造られた。現在のお墓参りにつながるお墓だね。

生徒：お墓参りのお墓は、詣り墓というんですね。大変勉強になりました。

先生：ちなみに、死者の葬送は、明治時代でも土葬^{注4}が7割をこえ、大正時代でも6割、⑪ 戦後すぐの時点でも半分近くを占めていたそうだよ。厚生労働省によると、現在の火葬率は99.97%というから(2021年度)、戦後からのこの約80年間で火葬が急激に広まり、土葬はほぼ消滅したことになる。お墓の形も、それにとまって、最初に話した、四角い墓石の下に遺骨を納める形がますます広まったと思われる。超高齢社会のなか、今後もお墓のあり方は変わっていくだろうね。

注1 供養：死者の死後の幸福などを祈って経典を読んだりすること。

注2 檀家：一定の寺院に属し、布施(財物のほどこし)をする信者の家。

注3 卒塔婆：死者の供養や墓のしるしのために立てた石や板のこと。

注4 土葬：遺体を棺桶にいれて、そのまま土に埋めて葬ること。

問1 下線部①のできごとを述べた文として、正しいものを下から1つ選び、記号で答えなさい。

- ア. 政府を去った板垣退助は、言論ではなく武力によって政府に抵抗した。
- イ. 井上馨による外交交渉の結果、関税自主権が回復することになった。
- ウ. 大隈重信は立憲改進黨を結成し、イギリス流の議会政治をとらえた。
- エ. 初代内閣総理大臣となった黒田清隆は、大日本帝国憲法の発布を受けた。

問2 下線部②に関連して、都心の人口増加にともなう墓地不足のため、郊外に欧米のような公園墓地が計画されることになり、1923年に多磨霊園が開設されました。当初は不人気が続いたそうですが、日露戦争の日本海海戦で海軍を指揮して活躍した人物が1934年に埋葬されたことで、一気に人気が高まったといわれます。死後に神としてまつられ、神社も建立された、その人物名を漢字で答えなさい。

問3 下線部③のできごとを述べた文として、正しいものを下から1つ選び、記号で答えなさい。

- ア. 徳川家康は、朝廷から将軍に任命されると、参勤交代の制度を整えた。
- イ. 幕府は、中国と国交をもつ琉球とオランダに長崎での貿易を許した。
- ウ. 享保の改革では、米の値段を下げるために株仲間の解散が命じられた。
- エ. 天保のききんが全国に広がるなか、元役人の大塩平八郎が乱を起こした。

問4 下線部⑤に関連して、次のア～エのできごとを時代の古い順に正しく並びかえて、記号で答えなさい。

- ア. 大宝律令が定められる
- イ. 都が藤原京に移される
- ウ. 大化の改新が始まる
- エ. 壬申の乱が起きる

問5 下線部⑥に関連して、次のA・Bのできごとがあてはまる時期として正しいものを、下の年表中の空らん ～ から1つずつ選び、記号で答えなさい。

- A 加賀の一向一揆が起こる
- B 御成敗式目が定められる

京都に六波羅探題が設置される

モンゴルが日本に襲来する

朝廷が南北に分かれ、対立する

応仁の乱が起こる

問6 空らん (⑦) に入る適当な語句を答えなさい。


問7 下線部⑧のできごとを述べた文として、正しいものを下から1つ選び、記号で答えなさい。

- ア. 保元の乱では、後白河天皇に味方した平清盛と源義朝が勝利した。
- イ. 宮中では女流文学が起こり、紫式部は『源氏物語』という随筆を書いた。
- ウ. 征夷大將軍の坂上田村麻呂が、九州南部にあった蝦夷の拠点を攻めた。
- エ. 藤原氏は天皇の娘を自らの子の妻にむかえることで、大きな力を握った。

問8 下線部⑧に関連して、平安時代の末期になると、死者の埋葬地などに極楽往生を願って阿弥陀仏を置いた堂を建てる風習が生まれました。その代表的な例が平泉にある中尊寺金色堂です。そこには、建てた一族のミイラ化した遺体などが葬られていました。東北地方を舞台に活躍した、中尊寺金色堂を建てた一族は何とよばれていますか、漢字で答えなさい。

問9 下線部⑨の遺物として、正しいものを下から1つ選び、記号で答えなさい。


ア.




イ.



ウ.



エ.



問10 下線部⑩に関連して、弥生時代と古墳時代について述べた次の文A・Bの正誤の組み合わせとして正しいものを下から1つ選び、記号で答えなさい。

A 稲作が伝えられると、人々は石包丁を使って稲の穂を刈り取り、収穫した稲を高床倉庫におさめた。

B 倭の五王は、朝鮮半島の国々に使いをたびたび送り、中国に対して優位に立とうとした。

ア. A-正 B-正 イ. A-正 B-誤

ウ. A-誤 B-正 エ. A-誤 B-誤

問11 下線部⑪に関連して、佐賀県にある弥生時代の最大級の遺跡で、物見やぐらなどをもち、外敵を防ぐために集落をほりて囲っていた遺跡名を解答らんにあわせて答えなさい。

問12 下線部⑫に関連して、戦後のできごとについて述べた次の文A・Bの正誤の組み合わせとして正しいものを下から1つ選び、記号で答えなさい。

A サンフランシスコ平和条約を結んでアメリカなど各国と国交を回復した日本は、同じ年に国際連合への加盟を果たして国際社会に復帰した。

B 沖縄が日本に復帰すると新たに自衛隊がつくられ、撤退したアメリカ軍にかわって日本国内の治安維持をになうようになった。

ア. A-正 B-正 イ. A-正 B-誤

ウ. A-誤 B-正 エ. A-誤 B-誤

問13 下線部④に関連した次の文章を読み、氏寺がどのような役割をはたしたかについて、氏寺の特徴にふれながら説明しなさい。

6世紀半ばに朝鮮半島から伝わった仏教は、日本では病気を治したり、願いをかなえてくれたりするものとして注目されました。

7世紀に入ると、飛鳥地方とその周辺には、仏教を取り入れた蘇我氏や渡来人系の豪族によって、一族のための寺がいくつも造られるようになりました。こうした寺を氏寺といいます。その代表が蘇我氏が造った飛鳥寺です。

飛鳥寺は、地面に穴を掘りそのまま柱を立てて木の板などを屋根にふくというそれまでの建物とは違い、礎石の上に柱を立てて屋根に瓦をふくという渡来人による新しい建築技法が用いられました。また、その巨大な建物の中には、金色にかがやく仏像が置かれました。

一方で、飛鳥寺の中央に配置された塔には、よろいや金属製の耳飾り、勾玉やガラス玉といった古墳の副葬品と同じものが埋められました。

こうした氏寺が造られたころを最後に、前方後円墳は造られなくなっていきました。

このページに設問はありません

3 次の文章を読み、あとの問いに答えなさい。

2023年6月21日、世界経済フォーラムが世界各国の男女格差の現状を数値化した「ジェンダーギャップ指数」の2023年版報告書を発表しました。

この指数は、各国の男女格差を「経済参画」「教育」「健康」「政治参画」の4つの分野で評価し、国ごとの① 男女平等の達成度を表しています。数値は男性に対する女性の割合を示しており、男女の格差が小さいほど1に近づき、格差が大きいほど0に近づきます。

主な国の指数は、以下の〔表1〕の通りです。

〔表1〕 対象146か国中の順位

	総合 順位	ジェンダー ギャップ指数	経済 参画	教育	健康	政治 参画
アイスランド	1位	0.912	14位	14位	128位	1位
アメリカ	43位	0.748	21位	59位	78位	63位
日本	125位	0.647	123位	47位	59位	138位
インド	127位	0.643	142位	26位	142位	59位
アフガニスタン	146位	0.405	146位	146位	141位	146位

日本は国別の総合順位で対象146か国中125位と、2022年の116位から後退し、2006年の調査開始以来、過去最低の結果となりました。中でも、最も順位が低い分野が「政治参画」で、138位でした。報告書では、② 衆議院議員に占める女性の割合が9.7%であったことや③ 内閣を構成する各大臣に占める女性の割合が8.3%であったことなどが、日本の評価が低い理由とされました。

ただ、その一方で、この「政治参画」については新しい動きも起こってきています。2023年4月に実施された統一地方選挙では、過去最多となる7人の女性市長が誕生しました。統一地方選挙とは、辞職などによって任期がとぎれた場合を除き、4年に一度、投票日を統一して全国一斉に行われる④ 地方公共団体の首長・議会議員の選挙です。市議会議員選挙では女性議員比率が初めて2割を超え、東京都杉並区など4市区町の議会では女性の当選者が過半数を超えたことが注目されました。

問1 [表1]の5か国を比較して、そこから読み取れる内容として正しいものを下から1つ選び、記号で答えなさい。

- ア. アイスランドは、いずれの分野も順位が最上位となっている。
- イ. アフガニスタンは、いずれの分野も順位が最下位となっている。
- ウ. 総合順位が高い国ほど、「経済参画」の分野の順位も高くなっている。
- エ. 総合順位が高い国ほど、「教育」の分野の順位も高くなっている。

問2 下線部①について、下の文は法の下での平等に関する日本国憲法第14条第1項の条文です。空らん□に入る適当な語句を漢字で答えなさい。

すべて国民は、法の下に平等であつて、人種、信条、性別、社会的身分又は門地により、政治的、経済的又は社会的関係において、□されない。

問3 下線部②について、日本では国会に二院制を採用しています。一院制と比べた二院制の長所を1つ説明しなさい。

問4 下線部③について、内閣の仕事にあてはまるものを下から1つ選び、記号で答えなさい。

- ア. 法律を執行すること
- イ. 憲法改正の発議を行うこと
- ウ. 国政に関して調査を行うこと
- エ. 最高裁判所長官を任命すること

問5 下線部④について、A県B市の住民が地域の自然環境を守るために市の条例制定を求めて、必要な署名を集めて直接請求を行ったとします。この時の請求先として正しいものを下から1つ選び、記号で答えなさい。

- ア. A県議会
- イ. A県知事
- ウ. A県選挙管理委員会
- エ. B市議会
- オ. B市長
- カ. B市選挙管理委員会

