

## 〔社 会〕

○ 実施時間 【10:40~11:20】(40分)

○ 次の注意をよく読んでおくこと。

- (1) 「始め」の合図があるまで問題用紙を開かないこと。
- (2) 問題は 1 ~ 3、15 ページまであります。
- (3) 答えはすべて解答用紙の解答らんにはっきりと、ていねいに書きなさい。
- (4) 答えを直すときは、きれいに消してから書きなさい。
- (5) 内容に関する質問は受け付けません。
- (6) 気分が悪くなったり、トイレに行きたくなったりしたら、手をあげて監督の先生に合図しなさい。
- (7) 「終わり」の合図があったら、直ちに筆記用具を置き、解答用紙が回収されるまで待っていなさい。
- (8) 解答上の注意  
字数指定のあるものは、句読点〔。、〕も一字と数えること。

|          |  |        |  |
|----------|--|--------|--|
| 受験<br>番号 |  | 氏<br>名 |  |
|----------|--|--------|--|

1 国立公園に関する次の文章 [1] ~ [6] を読み、あとの問いに答えなさい。

[1] この国立公園は、オホーツク海に約70km突き出した半島の中に位置しています。大型哺乳類や、絶滅の恐れがある大型の猛禽類も多く生息するなど、国内でも原生的な自然が残る場所の一つとして知られています。2005年には、生物の多様性と生態系のつながりが認められ、世界自然遺産に登録されました。

[2] この国立公園は、1934年に誕生した歴史ある国立公園の一つであり、( ① ) 県・② 福島県・③ 群馬県に公園がまたがっています。公園内の大半が那須火山帯に属する山岳地であり、その火山活動によって誕生した湖として中禅寺湖があります。また、公園内には世界文化遺産に登録された神社仏閣や歴史的建造物も立ち並んでいます。

[3] この国立公園は、志摩半島とその周りに位置しています。公園内は、伊勢神宮とその背後に広がる森林環境を有する内陸と、入江や岬の多い複雑な地形である④ リアス海岸が展開する海沿いの地域に大別することができます。この海沿いの地域では、特に英虞湾で ( ⑤ ) の養殖が盛んに行われています。

[4] この国立公園は、日本で30番目の国立公園として指定されました。樹齢数千年を超えるスギからなる原生的な天然林や固有の植物や動物が多く生息するなど、特異な生態系と優れた自然景観が特徴です。この国立公園の一部は世界自然遺産に登録されています。

[5] この国立公園は、日本列島から約1000km離れた場所に位置する島々で構成されています。大陸と陸続きにならなかったことがなく、独自の進化を遂げた動植物や生態系が広がっていることから、「東洋のガラパゴス」とも呼ばれ、世界自然遺産に登録されています。

[6] この国立公園は、⑥ 熊本県と⑦ 大分県にまたがる、九州の中央部に位置する国立公園です。公園内にある阿蘇山は、東西18km、南北25kmにも及ぶ日本有数の ( ⑧ ) を持つ活火山として知られています。そして、火山群の周囲には雄大でなだらかな草原地帯が広がっています。

問1 [1]・[3]・[4]・[5] の国立公園が含まれる場所を次の地図中のア～コからそれぞれ1つずつ選び、記号で答えなさい。



問2 [1]の国立公園は、「市民が自らのお金で身近な自然や歴史的な環境を買い取り、次の世代に残す運動」が行われた場所として知られています。この運動の名前を解答らんに合わせて答えなさい。

問3 空らん(①)に入る適当な県名を解答らんに合わせて漢字で答えなさい。

問4 次の表1は、米・果物の収穫量が多い都道府県(2021年)を順に示したものであり、A～Cには下線部②を含む東北地方の県のいずれかが入ります。県名とA～Cとの正しい組み合わせを下から1つ選び、記号で答えなさい。

[表1]

| 順位  | 米   | 桃   | 西洋なし |
|-----|-----|-----|------|
| 第1位 | 新潟県 | 山梨県 | C    |
| 第2位 | 北海道 | B   | 新潟県  |
| 第3位 | A   | 長野県 | 青森県  |
| 第4位 | C   | C   | 長野県  |

(『データでみる県勢 2023年版』より作成)

|   | ア   | イ   | ウ   | エ   | オ   | カ   |
|---|-----|-----|-----|-----|-----|-----|
| A | 山形県 | 山形県 | 福島県 | 福島県 | 秋田県 | 秋田県 |
| B | 福島県 | 秋田県 | 山形県 | 秋田県 | 山形県 | 福島県 |
| C | 秋田県 | 福島県 | 秋田県 | 山形県 | 福島県 | 山形県 |

問5 下線部③について述べた文として、正しいものを下からすべて選び、記号で答えなさい。

- ア. 野辺山原では冷涼な気候を生かした高原野菜の栽培が盛んである。
- イ. 関東内陸工業地域の一角をなし、太田市では自動車工業が盛んである。
- ウ. 下仁田町を中心に、県内ではこんにゃくいもの生産が盛んである。
- エ. 県庁所在地である高崎市には、上越新幹線の停車駅がある。

問6 下線部④について説明した文A・Bの正誤の組み合わせとして正しいものを下から1つ選び、記号で答えなさい。

- A 海面の低下によって陸地となった海岸のことを指す。
- B 波が静かなため、地震による津波の被害を受けにくい。

- ア. A-正 B-正      イ. A-正 B-誤
- ウ. A-誤 B-正      エ. A-誤 B-誤

問7 空らん(⑤)に入る適当な語句を漢字で答えなさい。

問8 2023年に広島でG7サミット(主要国首脳会議)が開催されましたが、[3]の場所でも2016年にG7サミットが開催されました。G7の構成国として誤っているものを下からすべて選び、記号で答えなさい。

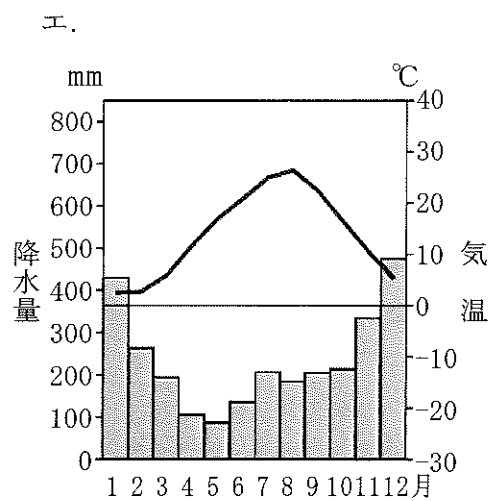
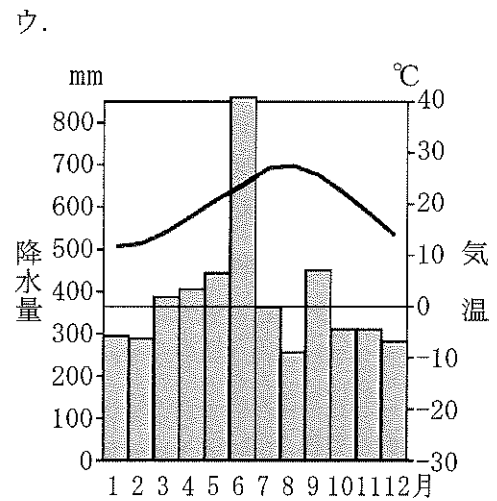
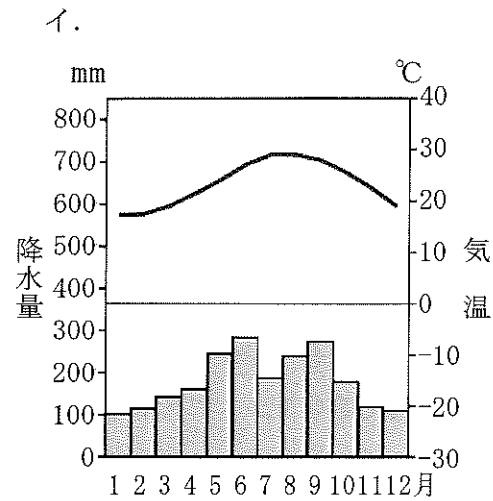
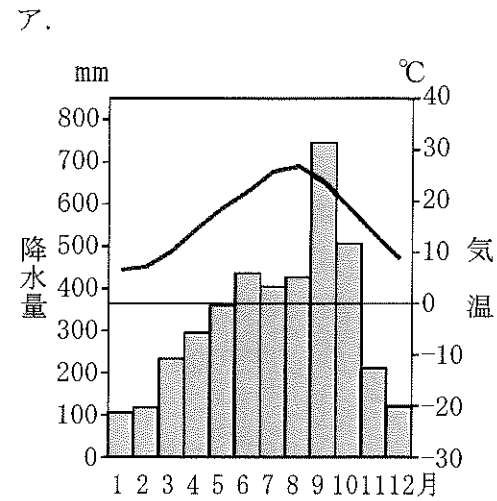
- ア. ロシア    イ. ドイツ    ウ. インド    エ. カナダ    オ. イギリス

問9 下線部⑦は地熱発電が盛んな地域として知られています。地熱発電は、風力発電や太陽光発電などと共に再生可能エネルギーと呼ばれており、以下の文は、この再生可能エネルギーによる発電の利点を説明しています。空らんをうめて文を完成させなさい。

再生可能エネルギーによる発電は、石油や石炭などの化石燃料を使用した発電に比べて、温室効果ガスの排出量が少なく、地球温暖化対策として有益であり、さらに、心配もないから。

問10 空らん(⑧)に入る適当な語句をカタカナで答えなさい。

問11 下の雨温図は、[4]の国立公園の場所と、問1にある地図中のX・Y・Zの場所の雨温図です。この中で[4]の国立公園の場所の雨温図として正しいものを下から1つ選び、記号で答えなさい。



問12 下の地形図は、下線部⑥のある地域の地形図です。地形図から読み取れることについて述べた文として正しいものを下から2つ選び、記号で答えなさい。



(「地理院地図」より作成)

- ア. 小・中学校は見られるが、高等学校は見られない。
- イ. 「鹿児島本線」の線路の西側よりも東側の方が寺院の数は多い。
- ウ. 橋を渡らなくても「平成駅」から「熊本駅」まで歩いていくことができる。
- エ. 「白川」は北に向かって流れている。
- オ. 「熊本藩主細川家墓所」は最も標高の高い場所に置かれている。

2 次の文章 [1] ~ [6] を読み、あとの問いに答えなさい。

[1] 日本史上はじめて記録された地震は、西暦416年のものとされています。しかし、①『日本書紀』には日付と「地震」の二文字が記されているのみです。他にも、推古天皇のもとで(②)が蘇我馬子らとともに活躍した時代に、大和(奈良県)で地震が発生していますが、事態の詳細を知ることができません。詳細な記録が残されているのは白鳳地震(684年)で、液状化現象や津波などの被害や、道後温泉の湯が止まったという現象までも記録されています。この地震は、ユーラシアプレートと、その下に沈みこんだフィリピン海プレートとの境界である(③)に由来する地震として、記録上もっとも古いものとなっています。

[2] 9世紀には、10回にも及ぶ大地震が記録されています。特に9世紀後半には、貞観地震(869年)、元慶地震(878年)、仁和地震(887年)といった地震が頻発しています。特に三陸で発生した貞観地震はマグニチュード8.4ほどと想定され、清和天皇は伊勢神宮に使者を遣わし、国内の平安を願っています。④11世紀末にも、各地で立て続けに地震が発生し、津波の被害や液状化現象が確認されています。1293年には、鎌倉一帯で大地震が発生しました。当時の年号から永仁鎌倉地震と呼ばれるこの地震により、多くの建物が倒壊、⑤建長寺も焼失しました。執権の北条氏は、復興に力を入れるとともに、混乱を利用して政敵を倒しています。

[3] ⑥戦国時代初期の1498年に起きた東海地方での地震は、広い範囲に被害を及ぼし、京都も強い揺れに襲われました。津波も広い範囲に押し寄せ、鎌倉では、海水が大仏殿の建物を破壊し、200人余りの溺死者がでたとされています。1596年、マグニチュード7.3の地震が畿内を襲いました。⑦前日に九州で大地震が起きたばかりのことでした。京都や奈良の寺社が被害を受けるとともに、豊臣秀吉が住まいとしていた伏見城も崩壊しました。城は再建されましたが、予定されていた⑧中国との交渉は、1か月ほど延期されました。

[4] 江戸時代の災害といえば、浅間山や富士山の噴火が有名ですが、1707年12月の富士山噴火の49日前、宝永地震と呼ばれる、記録に残るなかでも最大級の地震が発生しています。そもそも、⑨「宝永」に年号が変更されたのも、この地震の4年前に発生した地震が影響しています。幕末の1855年には、江戸で地震が発生しています。安政江戸地震と呼ばれるこの地震のあと、江戸では地震の様子を伝える瓦版(現在の新聞のようなもの)が発行されました。

[5] ⑩第一次世界大戦が終わり、日本経済が不況に陥っていた1923年9月1日、相模湾を震源とする地震が関東を襲いました。建物の倒壊のほか、大規模な火災による被害は甚大で、10万人に及んだ死者のほとんどが焼死だったとされています。この当時、通信手段は電報・新聞が主なものでしたが、新聞社の焼失などによって、報道機能は麻痺しました。そんな中、「朝鮮人が暴動を起こした」、「朝鮮人が井戸に毒を入れた」などといった根拠のない嘘の情報が広まり、多くの⑪朝鮮人が殺害されました。殺害された人々の中には、中国人や日本人もいました。

[6] 第二次世界大戦中、そして⑫戦後間もない時期には、(③)での地震が立て続けに起きました。これらの地震以降、(③)で大地震は起きていません。2011年の東日本大震災の時も、火災や津波、そして交通障害や電波障害など、さまざまな被害が出ました。なかでも福島第一原子力発電所事故は、原子力発電所のリスクを人々に強く認識させました。現在も、数万人の人々が避難生活を送っており、放射能汚染水処理の問題など、さまざまな困難が生じています。

問1 下線部①がまとめられた時期と同じ時期について述べた文として最も正しいものを下から1つ選び、記号で答えなさい。

- ア. 唐の国力が衰えたことを背景に、遣唐使が中止された。
- イ. 口分田の不足に対して、三世一身法が出された。
- ウ. 桓武天皇が、律令政治の立て直しをおこなった。
- エ. 中大兄皇子らが蘇我氏を倒し、政治の改革をおこなった。

問2 空らん(②)に入る適当な人物名を漢字で答えなさい。

問3 空らん( ③ )に入る適当な語句を答えなさい。

問4 下線部④の時期、天皇の位をゆずり、上皇として政治を行う院政がはじまりました。これを始めた人物は誰ですか、解答らんに合わせて漢字で答えなさい。

問5 下線部⑤は臨濟宗の寺として有名です。日本における臨濟宗の開祖は誰ですか、漢字で答えなさい。

問6 下線部⑥のきっかけとなった応仁の乱は、将軍の後継問題に守護大名らの勢力争いが絡み、11年にわたる内乱にまで発展しました。後継問題が発生した室町幕府の8代将軍は誰ですか、漢字で答えなさい。

問7 下線部⑦の地震は慶長豊後地震と呼ばれ、九州を中心に大きな揺れや津波が襲いました。下の史料は、ある団体に属していた人物が、津波の様子について現地の人々から聞いた情報を記したものです。ある団体とは何ですか、答えなさい。

「豊後で起こった地震は非常に大きくて恐るべきものであり、もしキリシタンたちがそこから来て話さなかったなら〔事実とは〕信じられぬほどのものであった。〔…〕彼〔キリシタンの日本人〕はこう言った。『私は今〔地震から2か月後〕でも十分に平静さを取り戻していません。また故郷が崩壊しているのを見て生じた恐怖を払い除けることもできません』と。」

問8 下線部⑧について、下の問い(1)・(2)に答えなさい。

(1) 下線部⑧は、当時おこったある出来事についての和平交渉でした。その出来事を答えなさい。

(2) なぜ中国と和平交渉が行われたのか、わかりやすく説明しなさい。

問9 下線部⑨の時代を中心に栄えた文化は、主に上方の町人を担い手とするものでした。この文化について述べた文として誤っているものを下から1つ選び、記号で答えなさい。

ア. 井原西鶴が、町人の生活や心情を浮世草子にえがいた。

イ. 十返舎一九による滑稽本『東海道中膝栗毛』が人気を集めた。

ウ. 菱川師宣が町人の風俗を題材とした浮世絵を確立した。

エ. 松尾芭蕉が各地を旅しながら、紀行文の『おくのほそ道』をあらわした。

問10 下線部⑩が始まった時期として正しいものを、下の空らん  ~  から1つ選び、記号で答えなさい。

ポーツマス条約が結ばれる

日本が関税自主権を完全に回復する

中国に二十一か条要求を突きつける

日本で初めての本格的な政党内閣が成立する

問11 下線部⑪の背景のひとつには、日本による朝鮮の植民地化があげられます。日本が植民地となった朝鮮を統治するために設置した役所の名前を漢字で答えなさい。

問12 下線部⑫の時期について述べた文A・Bの正誤の組み合わせとして正しいものを下から1つ選び、記号で答えなさい。

A 選挙法が改正され、25歳以上の男性すべてに選挙権が与えられた。

B 日本国憲法が公布され、翌年施行された。

ア. A-正 B-正

イ. A-正 B-誤

ウ. A-誤 B-正

エ. A-誤 B-誤

問13 安政江戸地震の直後、江戸では変わった絵が流行しました。「<sup>なまず</sup>鯰が動くと地震が起こる」と言われるように、地震を起こした（とされる）鯰をこらしめる絵が描かれました。資料A・Bの絵はその例です。しかし、中には資料Cのように、鯰が特定の立場の人々をこらしめる絵や、資料Dのように、鯰が金銀を吐き出させている絵も描かれ、流行しました。資料C・Dのような絵には、当時の民衆のどのような思いが込められていますか。描かれていることがらをふまえて、わかりやすく説明しなさい。

資料A



資料B



資料C



資料D



3 次の文章を読み、あとの問いに答えなさい。

2023年1月、日本は① 国際連合（以下、国連と表記）の安全保障理事会の非常任理事国となりました。任期は、2023年1月1日から2024年12月31日の2年間です。日本の安全保障理事会入りは、加盟以来12回目で、国連加盟国中で最多です。

安全保障理事会は、( ② ) を持つ5つの常任理事国と、( ② ) のない10か国の非常任理事国で構成されています。世界の各地域を代表するように地域枠が定められており、非常任理事国のうち5か国は毎年入れ替わります。

安全保障理事会は、国連憲章では「国際の平和及び安全の維持」に責任を負う機関と定められています。例えば、③ 平和維持活動の部隊の派遣を決めたり、平和を脅かす国に対する制裁を決めたりできます。一方、④ 総会の決議には法的な拘束力はありません。全ての加盟国が従う義務のある決議を出せるのは、国連の機関の中で安全保障理事会だけです。

しかしながら、2022年2月、常任理事国であるロシアが( ⑤ ) に侵攻し、安全保障理事会ではロシア軍の撤退を求める決議案や一方的な併合を非難する決議案が出されましたが、ロシアが( ② ) を使ったことで否決されました。

このように、世界の平和と安全の維持を担う安全保障理事会が有効に機能できていない現状にあり、国際社会の難しさをあらわしています。

問1 下線部①について、下の〔表1〕は2022年における国連通常予算の分担率の上位5か国をまとめたものです。国連の分担金は、各国の経済的な水準などに応じて決められています。表中の( ⑥ )には、安全保障理事会の常任理事国の国が入ります。( ⑥ )に当てはまる国名を答えなさい。

〔表1〕

| 順位 | 国名    | 分担率 (%) |
|----|-------|---------|
| 1  | アメリカ  | 22.000  |
| 2  | ( ⑥ ) | 15.254  |
| 3  | 日本    | 8.033   |
| 4  | ドイツ   | 6.111   |
| 5  | イギリス  | 4.375   |

(外務省ホームページより作成)

問2 空らん( ② )に入る適切な語句を漢字で答えなさい。

問3 下線部③について、この活動を何といいますか、下から1つ選び、記号で答えなさい。

ア. FAO イ. NGO ウ. PKO エ. WHO オ. WTO

問4 下線部④について、下の〔表2〕は国連が発足した1945年と2022年における国連加盟国数を地域別に示したものです。〔表2〕から読み取れる内容について述べた文A・Bの正誤の組み合わせとして正しいものを下から1つ選び、記号で答えなさい。

〔表2〕

|        | 1945年 | 2022年 |
|--------|-------|-------|
| 南北アメリカ | 22か国  | 35か国  |
| ヨーロッパ  | 14か国  | 43か国  |
| アジア    | 9か国   | 47か国  |
| アフリカ   | 4か国   | 54か国  |
| オセアニア  | 2か国   | 14か国  |
| 合計     | 51か国  | 193か国 |

(国連広報センター資料より作成)

A 1945年と比べて、2022年の総会における地域別に見た時の影響力は南北アメリカが最も低下していると考えられる。

B 1945年と比べて、2022年の総会における地域別に見た時の影響力はアジアが最も高まっていると考えられる。

ア. A-正 B-正                      イ. A-正 B-誤  
ウ. A-誤 B-正                      エ. A-誤 B-誤

問5 空らん( ⑤ )に入る適切な国名を答えなさい。



